



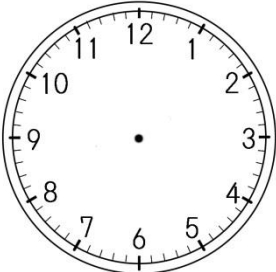
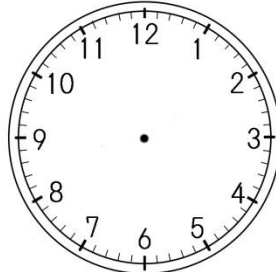
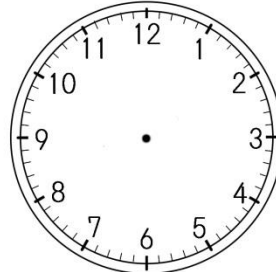
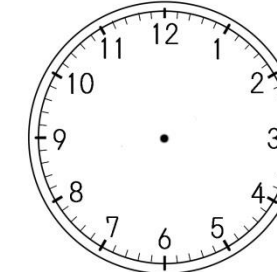
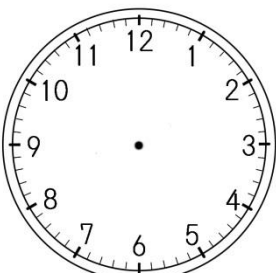
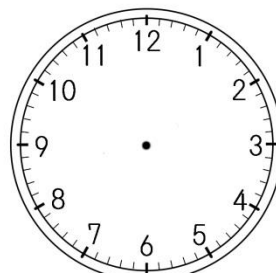
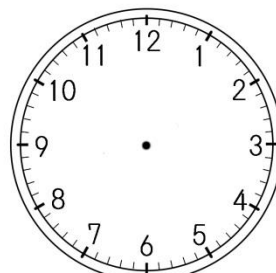
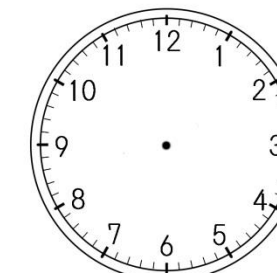
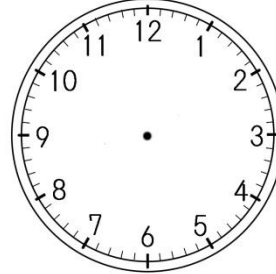
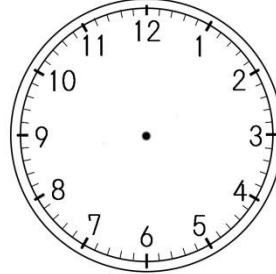
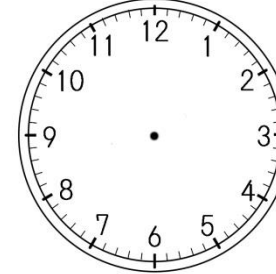
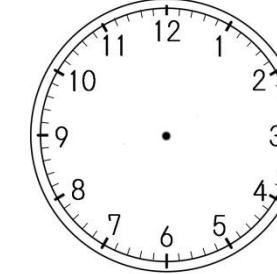
17

じ ときと ときい もんだい
時こくと時計の問題B

が
月に
日な
まえ
名前

つき じ じかんご とけい か い
次の時こくの1時間後を時計に書き入れましょう。

みじか なが なが き
短いはりと長いはりの長さに気をつけましょう。

① 	② 	⑦ 	⑧ 
12 じ 15 ぶん 時 15 分	11 じ 55 ぶん 時 55 分	9 じ 10 ぶん 時 10 分	3 じ 10 ぶん 時 10 分
③ 	④ 	⑨ 	⑩ 
6 じ 20 ぶん 時 20 分	1 じ 35 ぶん 時 35 分	8 じ 30 ぶん 時 30 分	5 じ 45 ぶん 時 45 分
⑤ 	⑥ 	⑪ 	⑫ 
2 じ 40 ぶん 時 40 分	7 じ 15 ぶん 時 15 分	10 じ 5 ぶん 時 5 分	4 じ 15 ぶん 時 15 分