



2

か もの はら
買い物でいくら払う?②



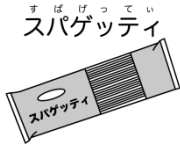

がつ
月


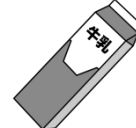


にち
日

なまえ
名前

か もの すこ おお ごとけいきんがく はら えんだま えんだま えんだま つか はら
買い物で、少し多めに、合計金額を払いましょう。50円玉・100円玉・500円玉だけを使って、払いましょう。

こた 答えの にえんだま えんだま えんだま か もけい
50円玉・100円玉・500円玉を書くか、模型をおいてみましょう。

①	なっとう 	えん 98円	ごうけい 合計 えん 円
	がむ ガム 	えん 118円	
②	すぱげってい スパゲッティ 	えん 345円	ごうけい 合計 えん 円
	すーぱーのふくる スーパーのふくる 	えん 295円	

③	じゅーす ジュース 	えん 110円	ごうけい 合計 えん 円
	ぎゅう 牛にゅう 牛乳 	えん 213円	
④	ぎゅうにく 牛肉 	えん 758円	ごうけい 合計 えん 円
	ちや お茶 	えん 130円	